

Московская олимпиада школьников. История. 7 класс.

Отборочный этап, 2022/23

15 дек 2022 г., 10:00 — 10 янв 2023 г., 23:59

№ 1 — 2

1 балл

Согласно распространённому мифу, ЭТИ слова некоего исторического деятеля в момент его убийства были обращены к одному из самых близких людей. Они стали синонимом коварства и предательства. Едва ли возможно достоверно установить правдивость этой фразы. В привычном нам виде она известна по одному из произведений Шекспира.

Установите автора оригинальных слов и определите, о каком высказывании идёт речь.

- Квинтилий Вар, верни легионы!
- А кроме того, я полагаю, что Карфаген должен быть разрушен!
- Какой артист погибает!
- Жребий брошен, пути назад нет!
- Глупо умирать от страха перед смертью.
- Пришёл, увидел, победил!
- И ты, Брут!
- Такова участь тиранов!

2 балла

Выберите и ДРУГИЕ крылатые выражения, которые приписывают этому историческому персонажу.

Квинтилий Вар, верни легионы!

А кроме того, я полагаю, что Карфаген должен быть разрушен!

Какой артист погибает!

Жребий брошен, пути назад нет!

Глупо умирать от страха перед смертью.

Пришёл, увидел, победил!

И ты, Брут!

Такова участь тиранов!

3 балла

Рассмотрите изображение и выберите все верные утверждения.



- Монета была выпущена в год проведения Олимпиады в Сочи.
- На монете приведён фрагмент миниатюры из летописи.
- Текст, изображённый на миниатюре, написан латиницей.
- На монете обыгрывается традиционное изображение кораблей скандинавских народов.
- На монете изображены башни Псковского Крома.
- События, которым посвящена монета, легли в основу так называемой норманнской теории.


2 балла

Выберите монеты, также связанные с событием, которому посвящена монета.



1 балл

Первый ОН пал под ударами варваров. Второй был захвачен турками-османами. Третий должен был стать последним, однако в начале XX века пойдут разговоры о падении третьего и появлении четвёртого. Выберите изображение, которое не связано ни с одним из НИХ.






1 балл

Выберите изображение города, непосредственно связанного с событием, отражённым в приведённом отрывке.


«Тогда было ему предложено по необходимости 100 гривен серебра, так как больше мы не смогли, и предложили, чтобы он это сказал трёмстам золотым поясам, которые его послали, и чтобы он представил наше дело наилучшим образом, [за что] мы хотели ему дать фиолетовое платье. С этим он ушёл оттуда. В ту же ночь послал тогда посадник к немцам и уведомил о следующем: они хотят положить конец делу, так что немцы дадут им 20 гривен серебра и два багряных платья, однако меньше он не хочет иметь».






2 балла

Выберите изображение(-я), связанное(-ые) с городом(-ами), который(-е) не смог бы посетить исторический деятель, изображённый на картине, при всём его желании.





Выберите фрагменты из летописи, в которых отражены события, связанные с жизнью одного из сыновей исторического деятеля, изображённого на картине.

Узнав о силе неприятеля, он вышел навстречу князю, чтобы рассказать ему о станах врагов. Стоял он на берегу моря, наблюдая за обоими путями, и провёл всю ночь без сна. Когда же начало всходить солнце, он услышал шум сильный на море и увидел один насад [], плывущий по морю, и стоящих посреди насада святых мучеников Бориса и Глеба в красных одеждах, держащих руки на плечах друг друга. Гребцы же сидели, словно мглюю одетые.

Пошёл воевать в Новгородскую волость и, придя, взял Новый Торг и Мьсту всю взял. А к Святославу послал, повелел ему воевать Смоленскую волость. И Святослав пошёл и захватил голядь вверх по Протве; и дружина Святослава набрала так пленных. И прислал к нему князь со словами: «Приходи ко мне, брат, в Москву». Святослав поехал к нему с сыном своим Олегом и небольшою дружиною и взял с собою Владимира Святославича. А Олег поехал вперёд и подарил ему барса.

И стал княжить в Киеве один, и поставил кумиры на холме за теремным двором: деревянного Перуна с серебряной головой и золотыми усами, и Хорса, Дажьбога, и Стрибога, и Симаргла, и Мокошь. И приносили им жертвы, называя их богами, и приводили своих сыновей и дочерей, и приносили жертвы бесам, и оскверняли землю жертвоприношениями своими. И осквернилась кровью земля Русская и холм тот. Но преблагой Бог не захотел гибели грешников, и на том холме стоит ныне церковь святого Василия, как расскажем об этом после. Теперь же возвратимся к прежнему.

Созвал бояр своих и старцев градских и сказал им: «Вот приходили ко мне болгары, говоря: "Прими закон наш". Затем приходили немцы и хвалили закон свой. За ними пришли евреи. После же всех пришли греки, браня все законы, а свой восхваляя, и многое говорили, рассказывая от начала мира, о бытии всего мира. Мудро говорят они, и чудно слышать их, и каждому любо их послушать, рассказывают они и о другом свете: если кто, говорят, перейдёт в нашу веру, то, умерев, снова восстанет, и не умереть ему вовеки; если же в ином законе будет, то на том свете гореть ему в огне. Что же вы посоветуете? Что ответите?»

Вошёл в город с дружиною своею и послал к царям Василию и Константину сказать: «Вот взял уже ваш город славный; слышал же, что имеете сестру девицу; если не отдадите её за меня, то сделаю столице вашей то же, что и этому городу». И, услышав это, опечалились цари, и послали ему весть такую: «Не пристало христианам выдавать жён за язычников».


И внезапно явилось ему, как некогда царю Константину, видение некое во сне, в котором показано было увиденное им место и повелевалось поставить там город на устрашение казанцам, дабы скрылись они от лица его и были бы для пограничных русских земель от этого города помощь и

защита, а для воюющих с казанцами стал бы он надёжной крепостью, чтобы могли они жить в нём, как дома, в своем городе на Руси, время от времени выходя оттуда и разоряя Казанскую землю.

2 балла

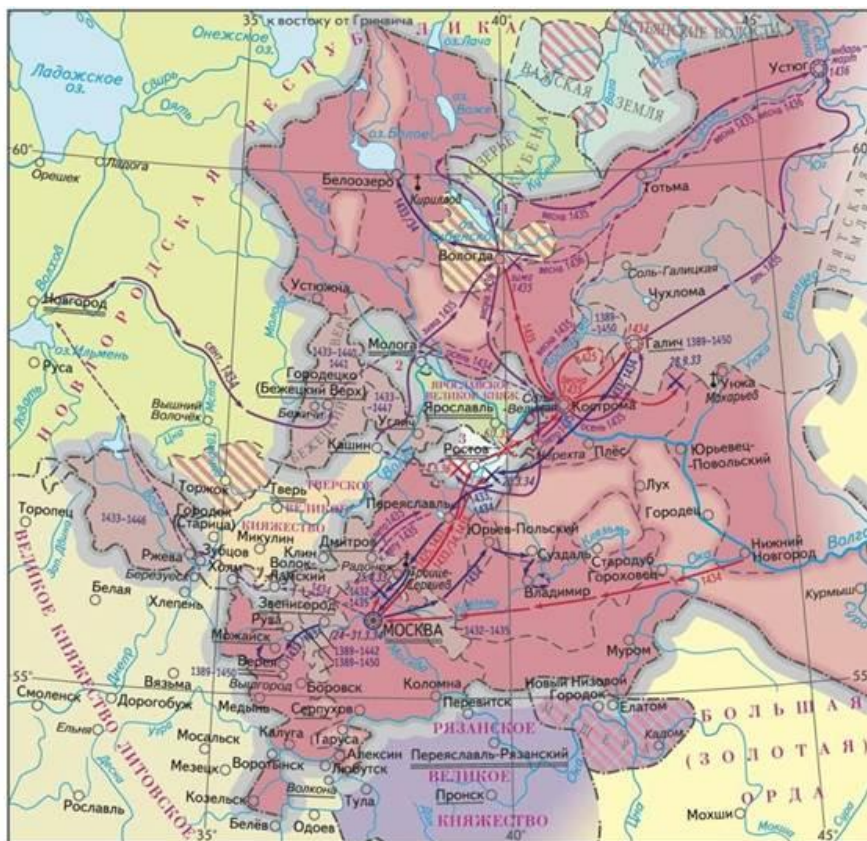
Выберите изображение, сюжет которого непосредственно связан с событиями, обозначенными стрелками на схеме.





5 баллов

Рассмотрите схему и выполните задания.



Выберите верные утверждения.

- На схеме обозначен город, в котором был убит князь Игорь.
- На схеме обозначен город, в котором произошло крупнейшее антиордынское восстание.
- На схеме обозначена река, в битве на которой погиб князь Святослав.
- В ходе событий, отражённых на схеме, был разорён город Смоленск.
- На схеме обозначено государство, образовавшееся после распада Монгольской империи.
- В походах, отражённых на схеме, участвовали исключительно сыновья Дмитрия Донского.
- Все территории, обозначенные на схеме, входили в состав Древнерусского государства.


На схеме обозначен город, в котором произошёл сбор русских войск перед Куликовской битвой.

Одно из сражений, отмеченных на схеме крестом, – место первой битвы русского войска с монгольским войском.

В ходе событий, отражённых на схеме, был осаждён Галич.

Выберите памятники архитектуры, расположенные в городах, которые обозначены на схеме.









Выберите изображение(-ия), непосредственно связанное(-ые) с событиями, отражёнными на схеме.





Выберите изображение, которое связано с событием, описанным в приведённом отрывке.

Уже по Русской земле разнеслось веселье и ликованье. Преодолела слава русская хулу поганых. Уже низвергнут Див на землю, а гроза и слава великого князя Дмитрия Ивановича и брата его, князя Владимира Андреевича, по всем землям пронеслись. Стреляй, князь великий, по всем землям, рази, князь великий, со своей храброй дружиной поганого _____ за землю Русскую, за веру христианскую. Уже поганые оружие своё побросали, а головы свои склонили под мечи русские. И трубы их не трубят, и приуныли голоса их.



○



○



○



5 баллов

Прочитайте текст и выполните задания.

А это, как мы слышим, безбожное племя агарян приблизилось к земле нашей, к вотчине твоей. Уже многие соседние с нами земли захватили они и движутся на нас. Выходи же скорее навстречу, призвав Бога на помощь и пречистую Богородицу, нам, христианам, помощницу и заступницу, и всех святых его. Последуй примеру прежде бывших прародителей твоих, великих князей, которые не только обороняли Русскую землю от поганых, но и иные страны подчиняли; я имею в виду Игоря, и Святослава, и Владимира, которые с греческих царей дань брали, а также Владимира Мономаха, — как и сколько раз бился он с окаянными половцами за Русскую землю, и иных многих, о которых ты лучше нас знаешь. А достойный похвал великий князь Дмитрий, прадед твой, какое мужество и храбрость показал за Доном над теми же окаянными сыроядцами — сам он впереди бился и не пощадил жизни своей ради избавления христиан. Он не усомнился, не убоился татарского множества, не обратился вспять, не сказал в сердце своём: «У меня жена, и дети, и богатство многое; если и возьмут мою землю, поселюсь где-нибудь в другом месте». Но без сомнения устремился он на подвиг, и вперёд выехал, лицом к лицу встретил окаянного разумного волка Мамаю, чтобы вырвать из его пасти словесное стадо христовых овец. Поэтому, за его отвагу, всемилостивейший Бог не замедлил, не задержался, не вспомнил его прежних грехов, но быстро послал ему свою помощь — ангелов и святых мучеников, помогать ему против его врагов. Поэтому он, пошедший на подвиг Господа ради, и доныне похваляем и славим не только людьми, но и Богом.

И ныне этот же Господь, и если покаемся от всей души и отречёмся от греха, то поставит нам Господь тебя, государя нашего, как некогда Моисея и Иисуса и иных, освободивших Израиль. Тебя даст нам Господь как освободителя нового Израиля, христианских людей, от этого окаянного, возносящегося над нами нового фараона, поганого Ахмата. Но его похвальбу обрушит Господь под ноги твои и пошлёт тебе пособников, ангелов своих и святых мучеников, и сметут они их, и те погибнут.

Выберите верные утверждения.

- Автор текста упоминает события, произошедшие как минимум в трёх разных веках.
- Источник, фрагмент которого приведён, относится к жанру житийной литературы.
- По мнению автора, основная причина похода на Русскую землю Ахмата — желание уничтожить христианскую веру.
- Автор источника — современник Ивана III.
- В тексте упоминается исторический деятель, носивший звание темник.
- Автор описывает пораженческие настроения Дмитрия Ивановича накануне битвы с Мамаем.
- В качестве примера стойкости и мужества автор приводит основателя московской ветви династии Рюриковичей.

Искренняя вера и покаяние, по мнению автора, принесут победу русскому воинству над Ахматом.

В тексте упомянуто название кочевого племени, известного в Восточной Европе под названием «куманы» или «кипчаки».

В тексте упомянуты события, вошедшие в историю России под названием Невской битвы.

4 балла

Выберите из приведённого списка события (процессы), произошедшие в том же веке, когда появился текст.

Созыв первого Земского собора в России

Авиньонское пленение пап

Грюнвальдская битва

Захват Константинополя войсками османского султана

Второй крестовый поход

Жакерия

Издание Великой хартии вольностей

Казнь Жанны д'Арк

Появление первого высшего учебного заведения в России

Война Алой и Белой розы